

Ryttarmärke 1 – teoretiskt prov



Datum: _____

Plats: _____

Namn: _____ Poäng _____

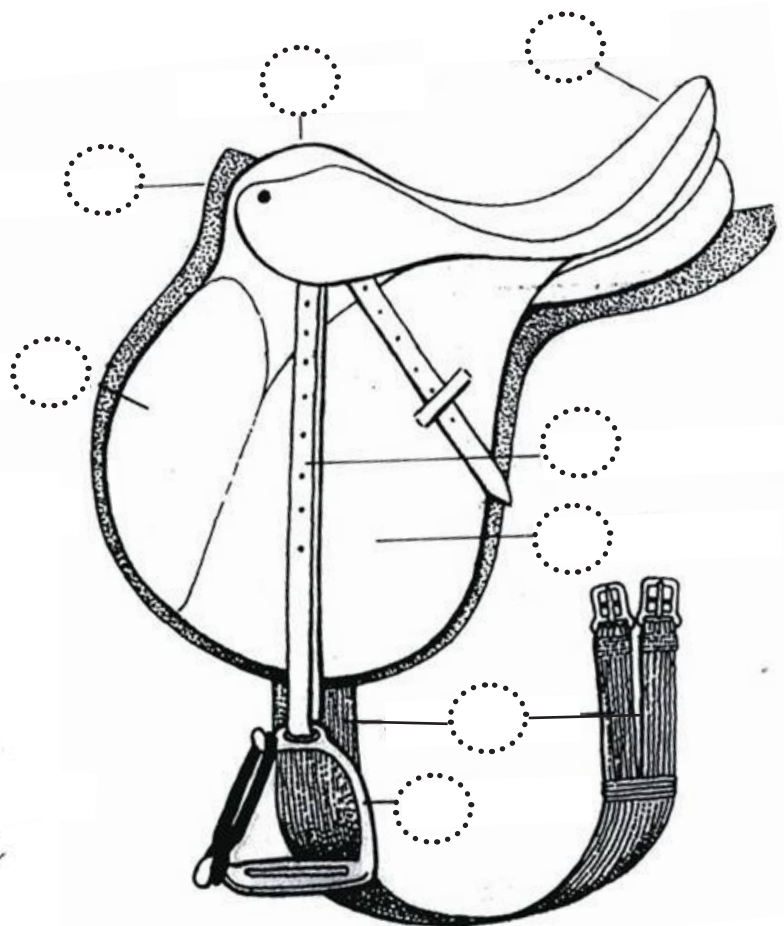
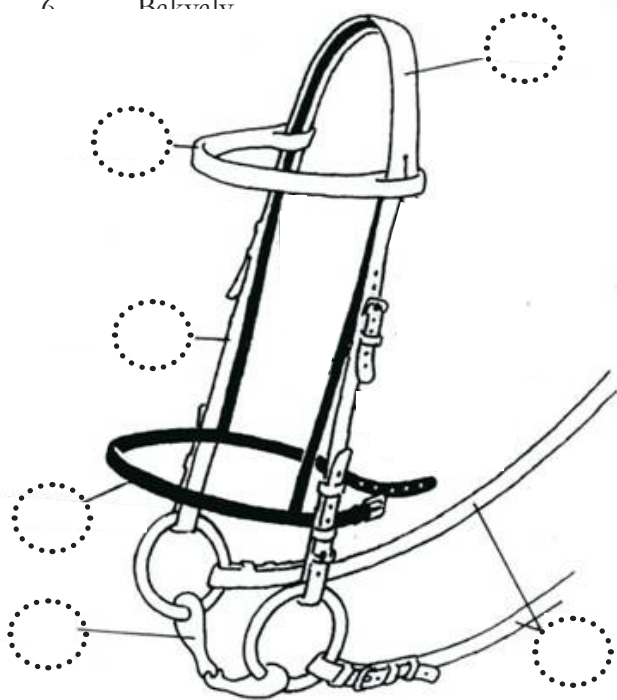
* Kan även utföras muntligt

* Max 30 poäng, för godkänt ca 20 poäng

Fråga 1 6 poäng

Märk ut följande delar på sadel och träs

- 1 Framvalv
- 2 Bett
- 3 Nosgrimma
- 4 Kåpa
- 5 Stigläder
- 6 Rebrida



Fråga 2 4 poäng

Vilken takt har gångarten

- 1 Tölt _____
- 2 Trav _____
- 3 Skritt _____
- 4 Galopp _____

Fråga 3 4 poäng

Märk ut följande av hästens delar

- 1 Kota
- 2 Manke
- 3 Kors
- 4 Skenben



Fråga 4 6 poäng

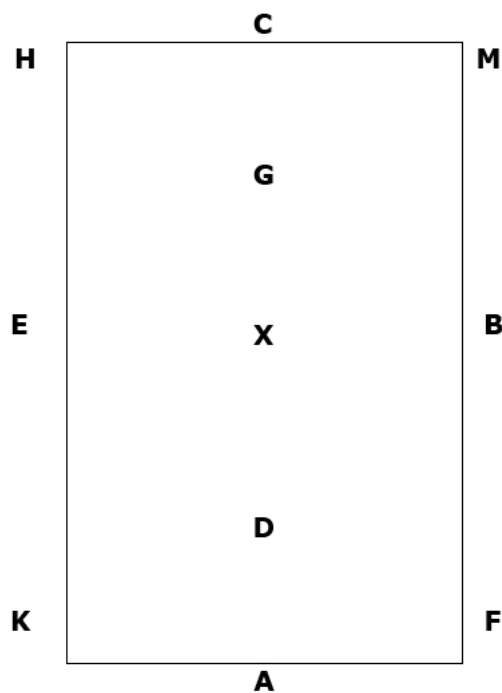
Nämn två vanliga färger på islands-häst och fyra tecken som hästen har på huvudet eller på benen

.....
.....

Fråga 5 4 poäng


Rita ut följande ridvägar och linjer på ridbanan

- 1 Medellinje
- 2 Fyrkantsspår
- 3 Vänd snett igenom
- 4 Stora mittvolten



Fråga 6 3 poäng

Vad betyder hästens kroppsspråk?



A B

Fråga 7 3 poäng

Nämn tre olika sitsar

.....
.....